



UYGULAMA - 1


1. Aşağıda verilen cümlelerden doğru olanlara 'D' yanlış olanlara 'Y' yazınız.


- a.  Her doğal sayı bir rasyonel sayıdır.
- b.   $-\frac{m}{n}$  rasyonel sayısının toplama işlemine göre tersi  $\frac{m}{n}$ 'dir
- c.  Rasyonel sayılar kümesi Q ile gösterilir.
- d.  Her tam sayı, rasyonel sayıdır. Fakat her rasyonel sayı, tam sayı değildir.
- e.  Rasyonel sayılar kümesinin çarpma işleminin etkisiz elemanı 1'dir.
- f.  Paydası sıfır olan tam sayılar rasyonel sayıdır.

2. Aşağıdaki rasyonel sayıları verilen sayı doğrularında gösteriniz.

a.  $\frac{3}{5}$  

b.  $\frac{5}{2}$  

c.  $-\frac{2}{3}$  

d.  $-\frac{7}{2}$  

e.  $-3\frac{1}{4}$  

f.  $3\frac{2}{5}$  



Uygulama - 1'in  
cevap anahtarına  
ulaşmak için  
karekodu okutunuz.