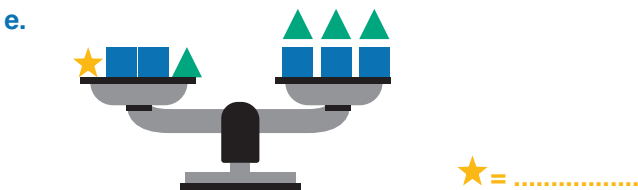
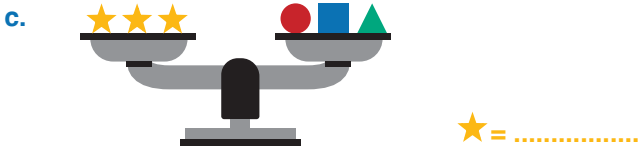


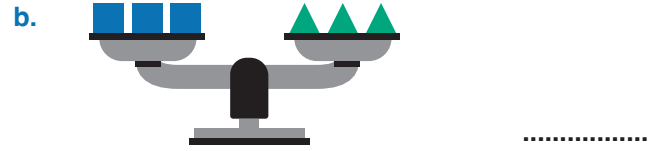
UYGULAMA - 5

1. Aşağıdaki denge durumundaki terazilere göre kütlesi verilmeyen cisimlerin kütlelerini yazınız.

● = 4 kg ■ = 5 kg ▲ = 6 kg



2. Aşağıdaki verilen denge durumundaki terazilere göre ■ yerine kaç adet ▲ kullanılacağını yazınız.



www.mavimatematik.com

www.mavimatematik.com



Uygulama - 5'in cevap anahtarına ulaşmak için karekodu okutunuz.