

5. SINIF | CEVAP ANAHTARI

Temel Geometrik Kavramlar ve Çizim

Nokta, Doğru, Doğru Parçası ve Işın

Uygulama - 1

- A.** MN doğru parçası $[MN]$, \overline{MN}
B. AB ışını $[AB, \overrightarrow{AB}$
C. CD doğrusu CD
D. EF ışını $[EF, \overrightarrow{EF}$
F. PR doğru parçası $[PR]$, \overline{PR}
E. KL doğrusu KL

1. Y 2. D 3. Y 4. D 5. Y 6. D 7. Y

Temel Geometrik Çizimler

Açılar

Uygulama - 2

- a.** Dar açı **b.** Dik açı **c.** Geniş açı
d. Geniş açı **e.** Dik açı **f.** Dar açı
g. Dar açı **ğ.** Dik açı **h.** Dik açı
i. Doğru açı

Temel Geometrik Çizimler ve İnşalar

Açılar

Test - 1

1. A	2. C	3. D	4. A	5. B	6. D
7. C	8. B	9. B	10. D	11. C	

Temel Geometrik Çizimler ve İnşalar

Nokta, Doğru, Doğru Parçası ve Işın

Test - 2

1. C	2. A	3. D	4. B	5. D	6. A
7. C	8. C	9. C	10. D	11. A	12. D

Geometrik Şekiller

Temel Geometrik Çizimler







Uygulama - 3





1. Doğru 2. Işın
3. Doğru Parçası 4. Işın
5. Doğru 6. Doğru
7. Doğru Parçası 8. Işın
9. Doğru Parçası 10. Doğru Parçası

Geometrik Şekiller

Temel Geometrik Çizimler

Uygulama - 4

- a.** 
b. 
c. 
d. 
e. 
f. 

- a.** 
b. 
c. 
d. 
e. 