

## 5. SINIF | CEVAP ANAHTARI

### Temel Geometrik Kavramlar ve Çizim

Nokta, Doğru, Doğru Parçası ve Işın

Uygulama - 1

- A. MN doğru parçası  $[MN]$ ,  $\overline{MN}$   
B. AB ışını  $[AB, \overrightarrow{AB}$   
C. CD doğrusu CD  
D. EF ışını  $[EF, \overrightarrow{EF}$   
F. PR doğru parçası  $[PR]$ ,  $\overline{PR}$   
E. KL doğrusu KL

1. Y 2. D 3. Y 4. D 5. Y 6. D 7. Y

### Temel Geometrik Çizimler

Açılar

Uygulama - 2

- a. Dar açı      b. Dik açı      c. Geniş açı  
d. Geniş açı      e. Dik açı      f. Dar açı  
g. Dar açı      ğ. Dik açı      h. Dik açı  
i. Doğru açı

### Temel Geometrik Çizimler ve İnşalar

Açılar

Test - 1

1. A	2. C	3. D	4. A	5. B	6. D
7. C	8. B	9. B	10. D	11. C	

### Temel Geometrik Çizimler ve İnşalar

Nokta, Doğru, Doğru Parçası ve Işın

Test - 2

1. C	2. A	3. D	4. B	5. D	6. A
7. C	8. C	9. C	10. D	11. A	12. D

### Geometrik Şekiller

Temel Geometrik Çizimler


Uygulama - 3

1. Doğru      2. Işın  
3. Doğru Parçası      4. Işın  
5. Doğru      6. Doğru  
7. Doğru Parçası      8. Işın  
9. Doğru Parçası      10. Doğru Parçası

### Geometrik Şekiller

Temel Geometrik Çizimler

Uygulama - 4

a. 

b. 


c. 

d. 

e. 

f. 

a. 

b. 

c. 

d. 

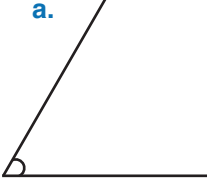
e. 

## 5. SINIF | CEVAP ANAHTARI

### Açı Ölçer Yardımıyla Açı Oluşturma

Uygulama - 5


a.



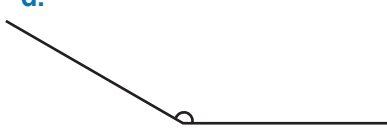
b.



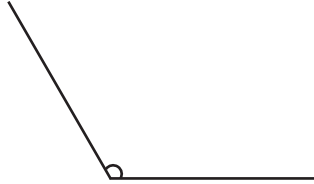
c.



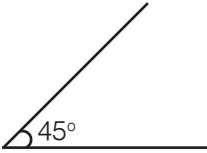
d.



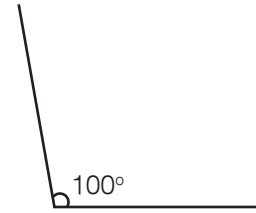
f.




e.



g.



h.



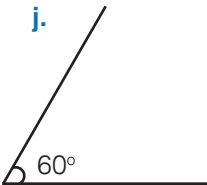
i.



i.



j.



k.



### Açı Ölçer Yardımıyla Açı Oluşturma

Uygulama - 6

1.  $45^\circ$
2.  $60^\circ$
3.  $120^\circ$
4.  $70^\circ$
5.  $105^\circ$
6.  $90^\circ$
7.  $30^\circ$
8.  $170^\circ$
9.  $15^\circ$
10.  $135^\circ$
11.  $95^\circ$
12.  $160^\circ$