

## UYGULAMA - 1

1. Aşağıda verilen doğal sayılarda ok ile işaretlenmiş rakamların basamak isimlerini yazınız.

a. 413 867 102 : .....

b. 22 413 899 : .....

c. 803 422 569 : .....

d. 245 012 145 666 : .....

e. 100 987 654 321 : .....

f. 8 000 007 : .....

www.mavimatematik.com

www.mavimatematik.com

2. Aşağıda verilen doğal sayıların okunuşlarını yazınız.

a. 57 625 : .....

b. 580 206 : .....

c. 1 484 615 : .....

d. 14 317 004 : .....

e. 906 000 017 : .....

f. 23 000 002 006 : .....

g. 165 403 000 001 : .....

www.mavimatematik.com

www.mavimatematik.com

3. Aşağıda okunuşları verilen doğal sayıları yazınız.

a. Sekiz yüz altmış beş milyar dört yüz yirmi üç bin on sekiz : .....

b. Doksan altı milyar altıyüz kırk beş milyon yüz yirmi dört : .....

c. Üç milyar kırk beş : .....

d. Yetmiş beş milyon sekiz yüz kırk bin doksan dokuz : .....



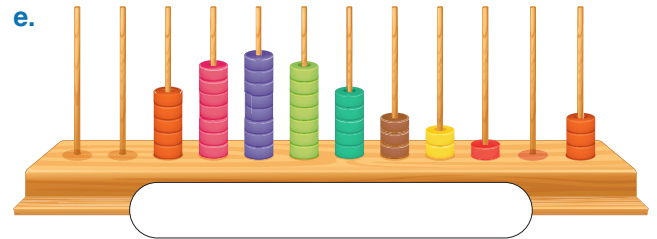
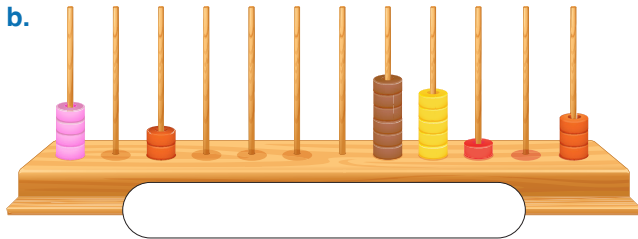
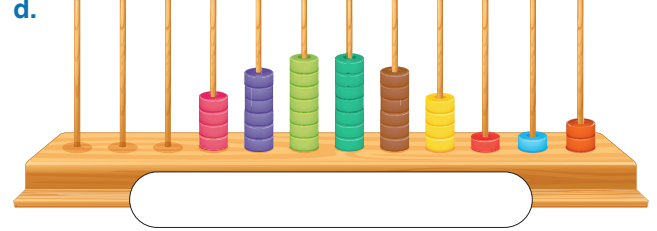

e. Altı milyon on üç : .....

f. Yüz kırk beş bin dokuz yüz yetmiş yedi : .....

g. Elli bin on dört : .....

UYGULAMA 1

4. Aşağıda verilen abaküslerde modellenen doğal sayıları yazınız.



5. Aşağıda verilen doğal sayılara göre noktalı yerleri doldurunuz.

a. 14 067 866

» Birler bölüğü : .....

» Binler bölüğü : .....

» Milyonlar bölüğü : .....

» Milyarlar bölüğü : .....

b. 240 800 513 400

» Milyonlar bölüğü : .....

» Milyarlar bölüğü : .....

» Birler bölüğü : .....

» Binler bölüğü : .....

c. ....

» Birler bölüğü : 205

» Binler bölüğü : 4

» Milyarlar bölüğü : 13

» Milyonlar bölüğü : 419

d. ....

» Binler bölüğü : 0

» Birler bölüğü : 45

» Milyonlar bölüğü : 732



Uygulama - 1'in cevap anahtarına ulaşmak için karekodu okutunuz.