

UYGULAMA 2

1. Mert, Semra, Funda, Emre, Murat günlük soru çözme tablosu yapacaklardır. Aşağıdaki bilgilere göre tabloyu doldurunuz.

Mert,  $2x + 5$  soru çözmüştür.

Semra, Mert'ten yedi tane eksik,

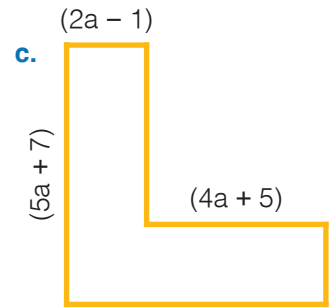
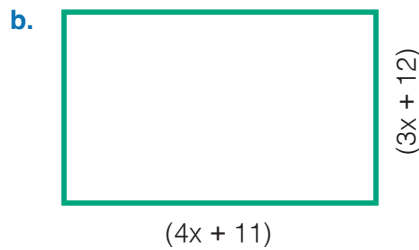
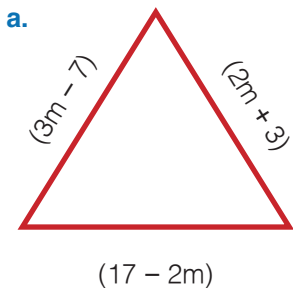
Funda, Semra'dan  $x + 9$  tane fazla,

Emre, Funda'dan sekiz tane eksik,

Murat, Emre'nin 2 katından 5 eksik soru çözmüştür.

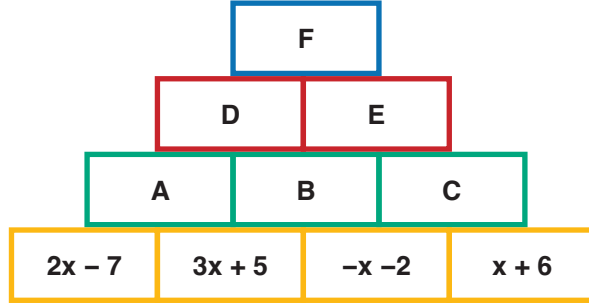
Öğrenci Adı	Çözdüğü Soru Sayısı
Mert	
Semra	
Funda	
Emre	
Murat	

2. Aşağıdaki şekillerin çevre uzunlukları yazınız.



UYGULAMA 2

3. Aşağıdaki şekilde altında temas ettiği iki dikdörtgenin toplamına eşit olan harfli dikdörtgenlerle ilgili istenilen bölgeleri noktalı yerlere yazınız.



- a. A =
- b. B =
- c. C =
- d. D =
- e. E =
- f. F =
- g. A + B + C =
- h.  $2 \cdot (A - B) =$
- i.  $2 \cdot (F - D) + E =$
- i.  $2 \cdot F - 3 \cdot E =$



Uygulama - 2'nin cevap anahtarına ulaşmak için karekodu okutunuz.