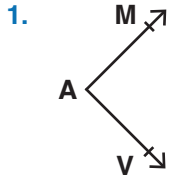
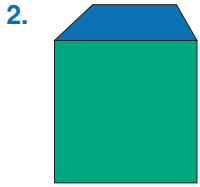


TEST - 1



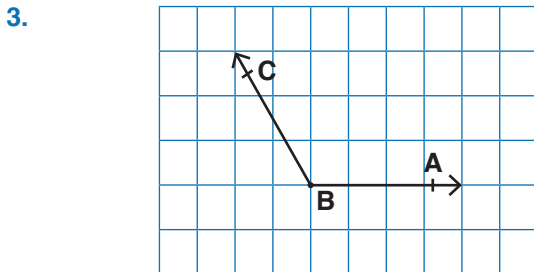
Yanda verilen açının sembolle gösterilişi aşağıdakilerden hangisinde doğru verilmiştir?

- A) $\widehat{V\hat{A}M}$ B) \widehat{M} C) \widehat{VMA} D) \widehat{AVM}



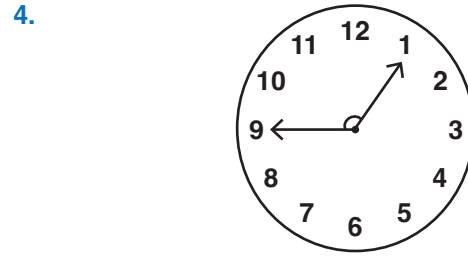
Yandaki şekli çizen Ali'nin hangi açı çeşitlerinden kaç tane çizdiğini doğru gösteren şık aşağıdakilerden hangisidir?

- A) Dar Açı = 4
Dik Açı = 2
Geniş Açı = 2
- B) Dik Açı = 4
Dar Açı = 1
Geniş Açı = 3
- C) Dik Açı = 4
Dar Açı = 2
Geniş Açı = 2
- D) Geniş Açı = 2
Dar Açı = 2
Dik Açı = 6



Yukarıdaki \widehat{ABC} 'nin ölçüsü aşağıdakilerden hangisi olamaz?

- A) 123 B) 128 C) 132 D) 135



Yukarıdaki saatte akrep ile yelkovan arasındaki açının ölçüsü hangisi olabilir?

- A) 91 B) 90 C) 89 D) 87

5. Tam sayı ile gösterilen en büyük dar açı ile en küçük geniş açının toplamı kaç derecedir?

- A) 91 B) 180 C) 181 D) 182

6. Aşağıdaki harflerin hangisinde dar açı yoktur?

- A) M B) A C) V D) E

