

ETKİNLİK - 1

1. Aşağıdaki noktalı kâğıt üstünde, dört öğrencinin evlerine ve evlerinden çıktuktan sonra uğradıkları yerlere ait konumlar verilmiştir. Bu konumlar doğru parçaları ile birleştirildiğinde oluşan üçgenleri isimlendiriniz. İletki ve cetvel kullanarak üçgenleri, açılarına ve kenarlarına göre sınıflandırınız.

a.



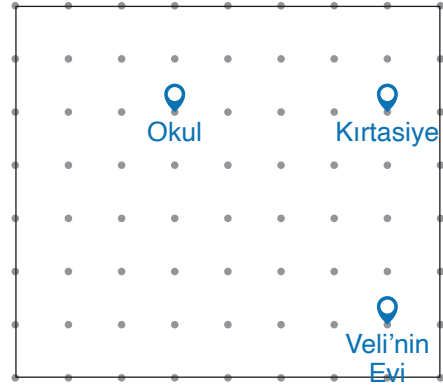
Üçgenin;

İsmi :

Kenarlarına Göre Çeşidi :

Açılarına Göre Çeşidi :

b.



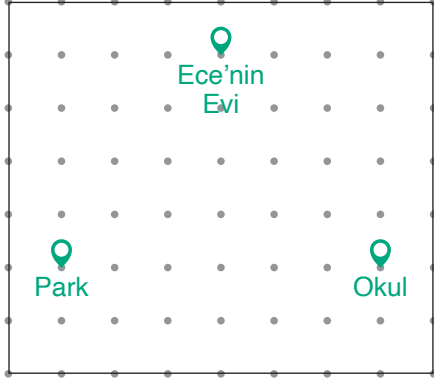
Üçgenin;

İsmi :

Kenarlarına Göre Çeşidi :

Açılarına Göre Çeşidi :

c.



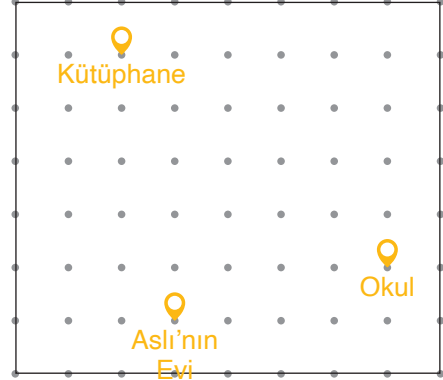
Üçgenin;

İsmi :

Kenarlarına Göre Çeşidi :

Açılarına Göre Çeşidi :

d.



Üçgenin;

İsmi :

Kenarlarına Göre Çeşidi :

Açılarına Göre Çeşidi :



Etkinlik - 1'in
cevap anahtarına
ulaşmak için
karekodu okutunuz.