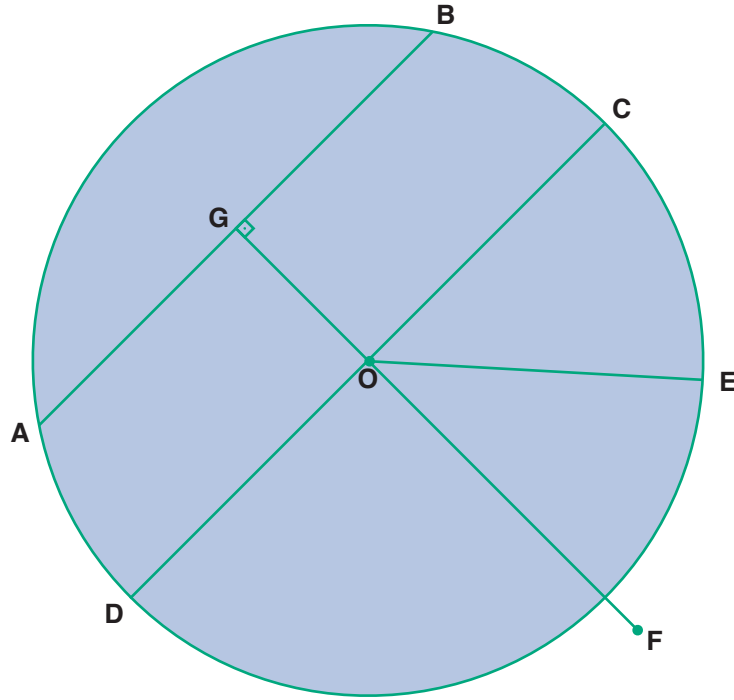


UYGULAMA - 1



Yukarıdaki çembere göre aşağıda doğru olana 'D' yanlış olana 'Y' yazınız.


- | | | | | | |
|----|--------------------------|--------------------------------|----|--------------------------|--------------------------------|
| a. | <input type="checkbox"/> | $ OG = OF $ | g. | <input type="checkbox"/> | $ OF > OE $ |
| b. | <input type="checkbox"/> | [AG] yarıçaptır. | h. | <input type="checkbox"/> | [OC] yarıçaptır. |
| c. | <input type="checkbox"/> | [OF] yarıçaptır. | ı. | <input type="checkbox"/> | O noktası çemberin merkezidir. |
| d. | <input type="checkbox"/> | Şekilde 5 tane yarıçap vardır. | i. | <input type="checkbox"/> | $[OE] = r$ |
| e. | <input type="checkbox"/> | $ OE = OD $ | j. | <input type="checkbox"/> | $[DC] = R$ |
| f. | <input type="checkbox"/> | [AB] çaptır. | | | |




Uygulama - 1'in cevap anahtarına ulaşmak için karekodu okutunuz.

UYGULAMA - 1


Aşağıdaki kareli zeminlere altında yazan yarıçap uzunlukları ile pergelle çember çiziniz.




$r = 2 \text{ cm}$




$r = 2,5 \text{ cm}$




$r = 5 \text{ cm}$



$r = 4 \text{ cm}$



$r = 1,5 \text{ cm}$



$r = 3 \text{ cm}$

www.mavimatematik.com

www.mavimatematik.com



Uygulama - 1'in
cevap anahtarına
ulaşmak için
karekodu okutunuz.