

UYGULAMA - 3

Aşağıdaki resimlere benzer geometrik şekillerin adlarını yazınız.

1. Tren Rayları



2. El Feneri



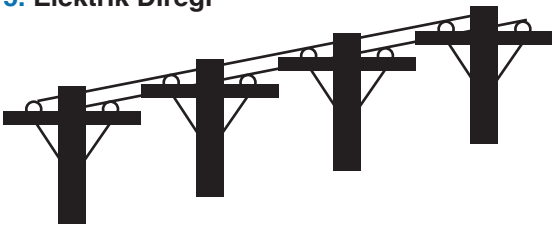
3. Cetvel



4. Kalem



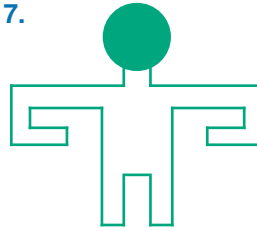
5. Elektrik Direği




6.



7.



8.



9. Odun



10. Çubuk Makarna

www.mavimatematik.com

www.mavimatematik.com



Uygulama - 3'ün cevap anahtarına ulaşmak için karekodu okutunuz.