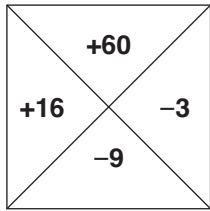


TEST - 1

1. $17 + (-10)$ işleminin sonucu aşağıdakilerden hangisidir?
A) -7 B) 7 C) 23 D) -23

2. Aşağıdakilerden hangisi yanlıştır?
A) $(-7) - (-8) = +1$
B) $(-6) - (+7) = -13$
C) $(+21) + 0 = +21$
D) $(+21) - (+5) = +10$

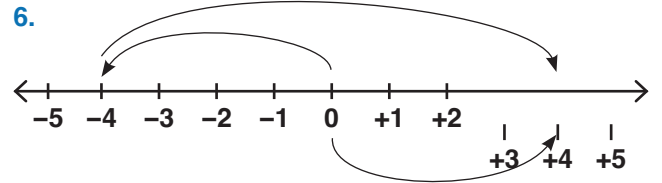


3. Yukarıda verilen sayılardan en küçüğü ile en büyüğünün toplamı aşağıdakilerden hangisidir?
A) 69 B) 51 C) +9 D) -12

4. $(+8) + (-11) = \blacktriangle$
 $(-6) - (-3) = \blacksquare$
Yukarıda verilen işlemlere göre $\blacksquare + \blacktriangle$ işleminin sonucu aşağıdakilerden hangisidir?
A) 16 B) 7 C) -6 D) -9

5. I. $(-2) - (-4)$ II. $(15) - (+17)$
III. $(-14) - (-20)$ IV. $(+9) + (-3)$

- Yukarıda verilen işlemlere göre, sonucu aynı olanlar aşağıdakilerden hangisidir?
A) I ve II B) II ve III C) III ve IV D) I ve IV



- Yukarıda verilen sayı doğrusunun üzerinde modellenen işlem aşağıdakilerden hangisidir?
A) $(+4) + (-4)$ B) $(+4) + (-8)$
C) $(-4) + (-9)$ D) $(-4) + (+8)$

TEST - 1

7. $(-2) + (-3) + 7 - (-6)$
işleminin sonucu aşağıdakilerden hangisidir?

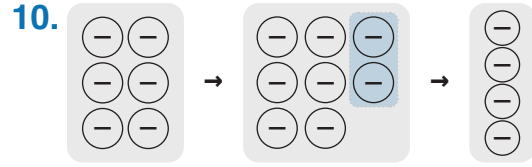
- A) 8 B) 4 C) -4 D) -8

8. Rakamları farklı iki basamaklı en küçük negatif tam sayıdan rakamları farklı iki basamaklı en küçük sayı çıkınca sonuç kaç olur?

- A) -109 B) -108 C) 0 D) 1

9. $A = |-5| + (-3)$
 $B = (-7) - |-2|$
 $C = (-6) - (-2)$ ise;
 $A + B - C$ işleminin sonucu aşağıdakilerden hangisidir?

- A) -5 B) -3 C) 1 D) 3



- A) $(-6) - (-2)$ B) $(-6) + (-2)$
C) $(-6) + (-4)$ D) $(-4) - (-2)$

11. $(-5) - (-7)$
işleminin sonucu kaçtır?

- A) -12 B) -2 C) +2 D) 12

12. -7, +6, -1, -3,
sayılarının küçükten büyüğe doğru sıralanışı
aşağıdakilerden hangisidir?

- A) $-3 < -1 < -7 < 6$ B) $6 < -7 < -3 < -1$
C) $-7 < -3 < -1 < 6$ D) $-1 < -3 < -7 < 6$



Test - 1'in
cevap anahtarına
ulaşmak için
karekodu okutunuz.