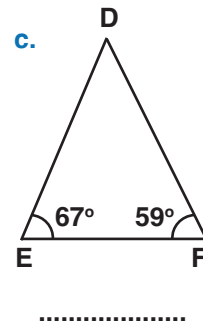
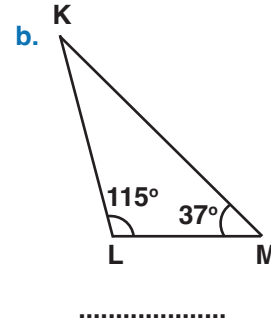
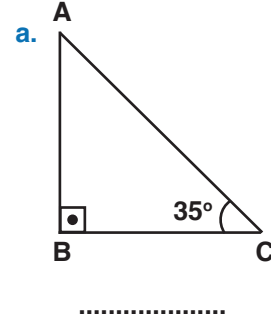


UYGULAMA - 4

1. Aşağıda verilen ifadelerden doğru olanların başına “D”, yanlış olanların başına “Y” yazınız.

- a. Kare düzgün çokgendir.
- b. Dikdörtgen düzgün çokgendir.
- c. Üçgenin iç açılarının ölçüleri toplamı 180° 'dir
- d. Bir üçgenin iki iç açısı dar açı olabilir.
- e. Bir üçgenin iki iç açısı geniş açı olabilir.
- f. Üçgenin köşegeni yoktur.
- g. Dik açılı ikizkenar üçgen çizilemez.
- h. Geniş açılı eşkenar üçgen çizilebilir.
- i. Çokgenlerde ardışık olmayan iki köşeyi birleştiren doğru parçalarına köşegen denir.
- i. Dörtgenlerin iki köşegeni vardır.

2. Aşağıdaki üçgenlerde verilmeyen açının ölçüsünü bulunuz. Üçgenlerin açılarına göre çeşitlerini yazınız.



www.mavimatematik.com

www.mavimatematik.com



Uygulama - 4'ün cevap anahtarına ulaşmak için karekodu okutunuz.