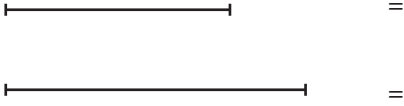


SORULAR

(10 Puan)

1. Aşağıdaki doğru parçalarını cetvelle ölçüp uzunluklarını yazınız.



(10 Puan)

2. Aşağıdaki noktalı yerlere temel geometrik çizimlerin hangi araçlarla yapıldığını yazınız.

Açı = .....

Doğru = .....

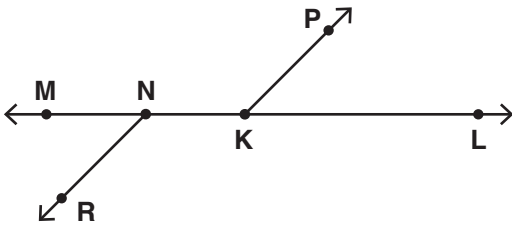
Çember = .....

Dikme = .....

Işın = .....

(10 Puan)

3.



Şekil üzerinde oluşan temel geometrik şekillere birer örnek vererek sembolle gösterimlerini yazınız.

(10 Puan)

4. Aşağıda sembolle verilen temel geometrik şekillere uygun şekli cetvelle çizin.

[AB] =

CD =

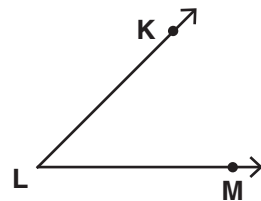
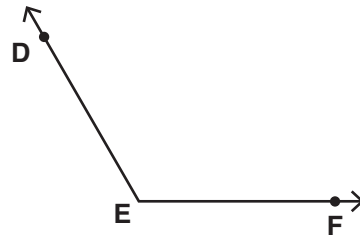
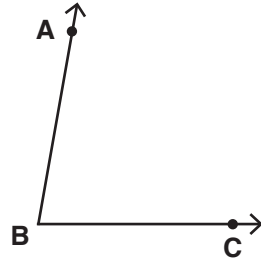
[EF =

KL] =

$\rightarrow$   
MN =

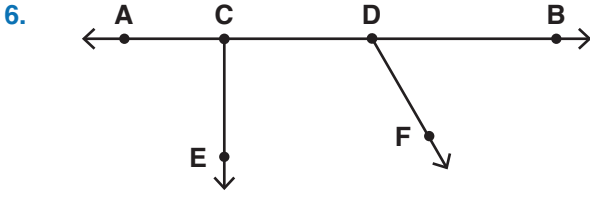
(15 Puan)

5. Aşağıdaki açılarının ölçülerini açı ölçer kullanarak bulunuz.



SORULAR

(10 Puan)



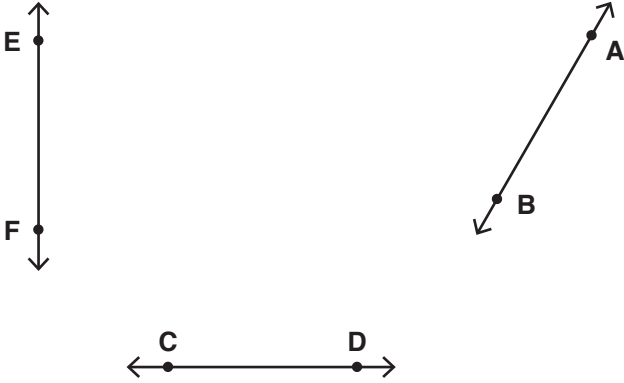
Yukarıdaki noktalı kağıttaki açılardan dar, dik, doğru ve geniş açılara sembolle gösterip birer örnek veriniz.

- c.  Doğru parçasının uzunluğu ölçülebilir.  
d.  Doğrunun uzunluğu ölçülemez.  
e.  Dikme çizmek için gönye kullanılır.

www.mavimatematik.com

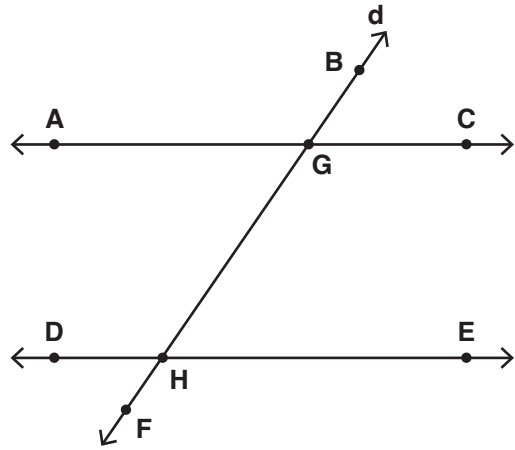
(10 Puan)

7. Aşağıda verilen doğrulara gönye yardımıyla dikmeler uzatınız.



(15 Puan)

9.



Yukarıdaki şekle göre noktalı yerlere gelmesi gereken açı çeşitlerini yazınız.

Dar açı = .....

Dar açı = .....

Geniş açı = .....

Geniş açı = .....

Ters açılar = ..... ve .....

Komşu açılar = ..... ve .....

www.mavimatematik.com

(10 Puan)

8. Aşağıdaki ifadelerden doğru olanlara 'D' yanlış olanlara 'Y' yazınız.

a.  Bir noktadan başlayıp başka bir noktada biten şekle doğru denir.

b.  Açı ölçmek için pergel kullanılır.