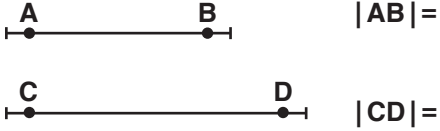


5. SINIFLAR MATEMATİK DERSİ 1. DÖNEM 1.YAZILI SINAVI

1.

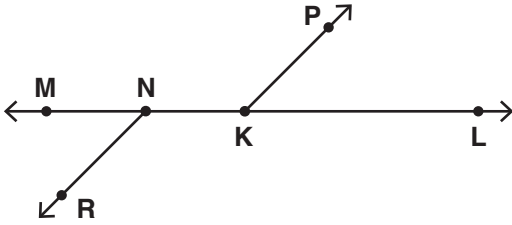
(5 Puan)

a. Aşağıdaki doğru parçalarını cetvelle ölçüp uzunluklarını yazınız.



(15 Puan)

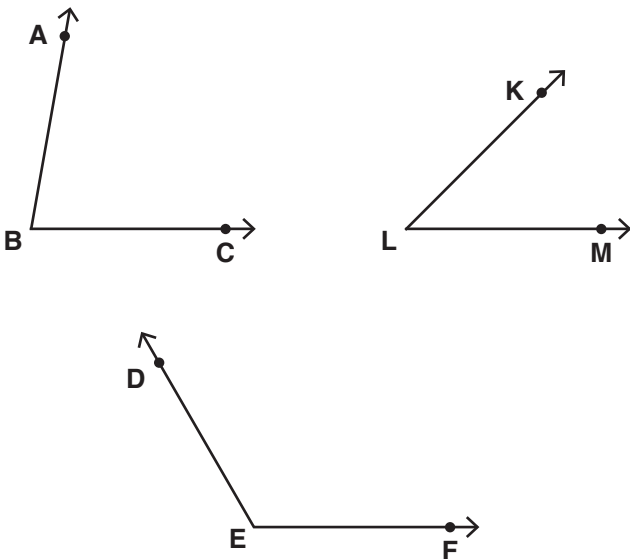
b.



Şekil üzerinde oluşan temel geometrik şekillere birer örnek vererek sembolle gösterimlerini yazınız.

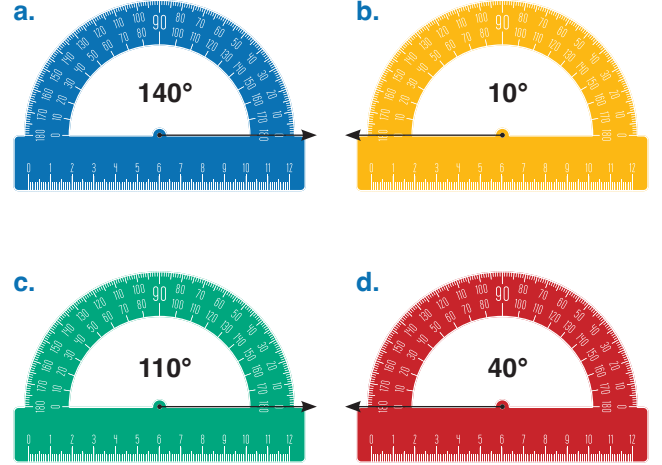
(10 Puan)

2. Aşağıdaki açılarının ölçülerini açı ölçer kullanarak bulunuz.



(20 Puan)

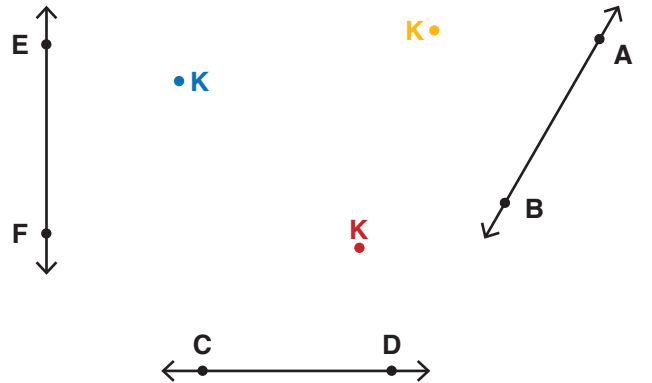
3. Aşağıdaki açıölçüleri kullanarak ölçüleri verilen açıları çiziniz.



4. Aşağıda verilen doğrulara gönye yardımıyla dikmeler uzatınız.

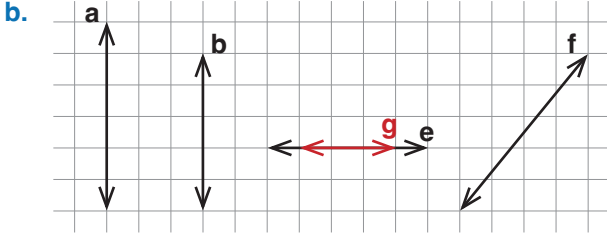
(6 Puan)

a.



5. SINIFLAR MATEMATİK DERSİ 1. DÖNEM 1.YAZILI SINAVI

(7 Puan)



Yukarıdaki kareli zeminde verilen doğruların birbirine göre durumlarını boşluklara yazınız.

(Paralel, kesişen, dik, dik kesişen, çakışık)

Oluşumu

Sembolle

a ile b : _____

a ___ b

b ile e : _____

b ___ e

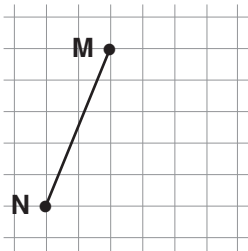
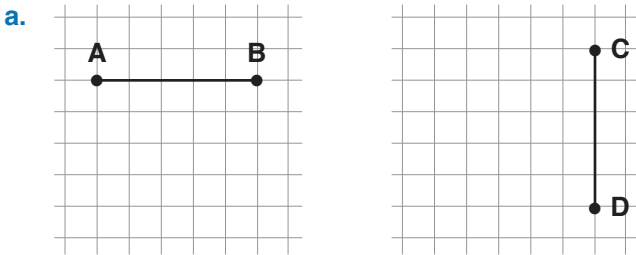
e ile g : _____

e ile f : _____

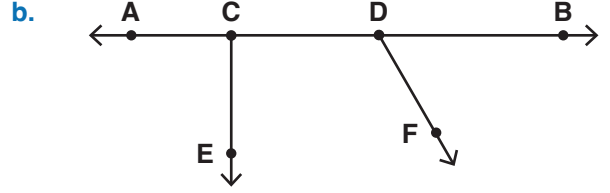
b ile f : _____

(3 Puan)

5. Aşağıda verilen doğru parçalarına eş birer doğru parçası çiziniz.



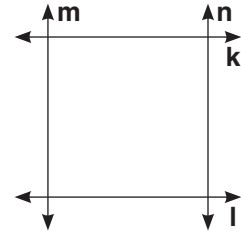
(4 Puan)



Yukarıdaki noktali kağıttaki açılardan dar, dik, doğru ve geniş açılara sembolle gösterip birer örnek veriniz.

(30 Puan)

6. Aşağıda dört doğrunun kesişmesi ile oluşturulan kare verilmiştir.



Bu karenin kenarlarının kesecek şekilde iki doğru kullanarak kare bölge üzerinde çokgenler oluşturunuz ve bu çokgenlerin isimlerini ve çeşidini yazınız.