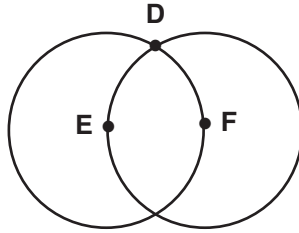
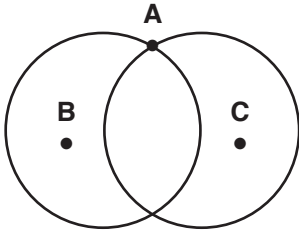


SENARYO - 1

- (5 puan)
1. a. Köşegeni olmayan bir çokgen çiziniz.

- (5 puan)
b. İki tane köşegeni olan bir çokgen çiziniz.

- (15 puan)
2.



Eş çemberlerin kesişimi ile oluşan noktaların birleşimiyle oluşan üçgen çeşitlerini yazınız ve nedenleri ile açıklayınız. (B, C, E ve F çemberlerin merkezidir.)

a.

b.



SENARYO - 1

3. (15 puan)

a. Aşağıdaki sayıların okunuşlarını yazınız.

- 17.507.426 :
- 98.000.015 :
- 146.427.008 :

(10 puan)

b. Aşağıda okunuşları verilen sayıları rakamla yazınız.

- Dörtüz sekiz bin altmış sekiz :
- Yediyüz bin bir :
- Kırdokuz milyon :

(15 puan)

4. 4485 litre zeytinyagi 23 litrelik bidonlara doldurulup her bidon 276 TL'den satılacaktır.

Bu satıştan elde edilen para kaç TL'dir?



SENARYO - 1

(15 puan)

5. Akşam 20:50'de uyuyan Mert 7:15'e alarm kurmuştur.

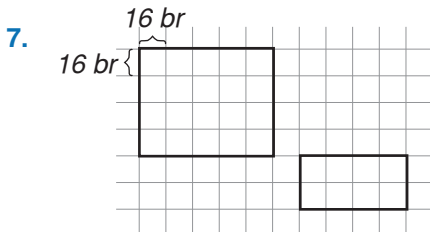
Alarm çaldıktan 20 dakika sonra uyanan Mert toplam kaç saat uyumuştur?

(10 puan)



Çevre uzunluğu 72 birim olan dikdörtgenin uzun kenarı kaç birimdir?

(10 puan)



Birim kareli zemin üzerine çizilen dikdörtgenlerin alanlarına hesaplayınız.